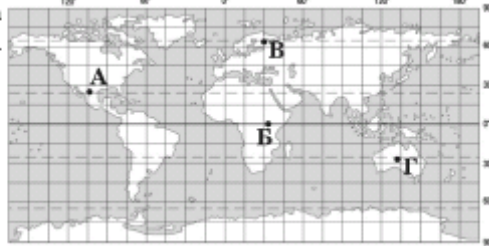


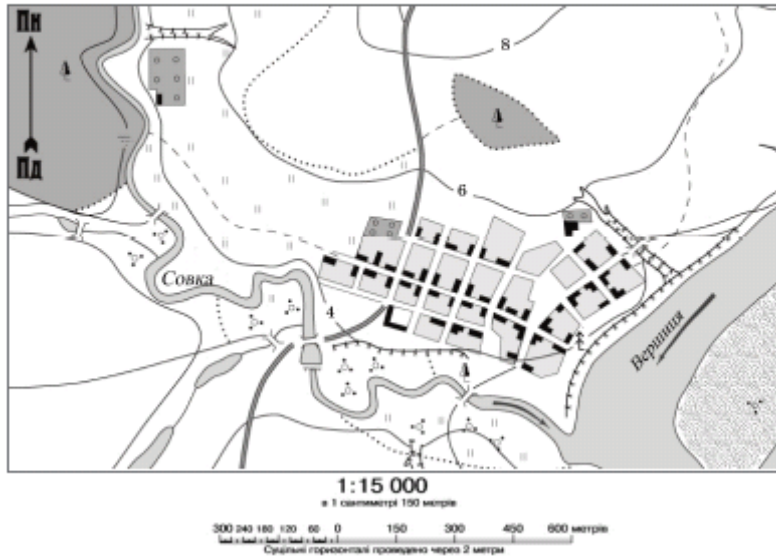
Зовнішнє незалежне оцінювання з географії 2009

№ завдання	Посилання на підручник
<p>1. Яка подія відбулася на початку епохи Великих географічних відкриттів?</p> <p>А відкрито Антарктиду Б з'явилися перші географічні карти В уперше висловлено припущення, що Земля має форму кулі Г європейці дізналися про нову частину світу</p>	<p>Скуратович О.Я., Круглик Л.І., Коваленко Р.Р. Загальна географія: підруч. для 6 кл – К.: Зодіак-ЕКО, 2005. – 319с. §2 Пестушко В.Ю., Сасихов В.О., Уварова Г.Є. Географія материків і океанів: підруч. для 7 кл. серед.шк. – К.: Абрис, 2003. – 376с. §34,40</p>
<p>2. Причиною припливів і відпливів у Світовому океані є</p> <p>А притягання Місяця та Сонця. Б нерівномірний річковий стік. В нерівномірне нагрівання земної поверхні. Г нахил земної осі до площини орбіти.</p>	<p>Скуратович О.Я., Круглик Л.І., Коваленко Р.Р. Загальна географія: підруч. для 6 кл – К.: Зодіак-ЕКО, 2005. – 319с. §5</p>
<p>3. У якій із точок, що позначені на карті, Сонце знаходиться в zenіті ополудні 23 вересня?</p>	<p>Скуратович О.Я., Круглик Л.І., Коваленко Р.Р. Загальна географія: підруч. для 6 кл – К.: Зодіак-ЕКО, 2005. – 319с. §34</p>



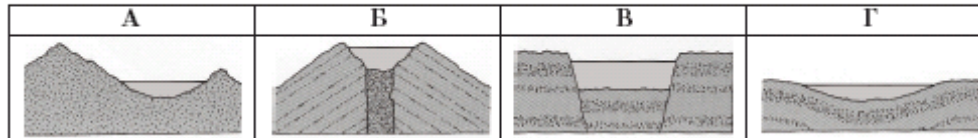
4. Розгляньте план місцевості. Яке число найточніше відображає відстань у метрах, яку пройшов пішохід стежкою від річки Совки, що протікає попід лісом, через найдовшу вулицю села до ялини над обривом річки Вершиці?

- А 850
- Б 1300
- В 2700
- Г 2250



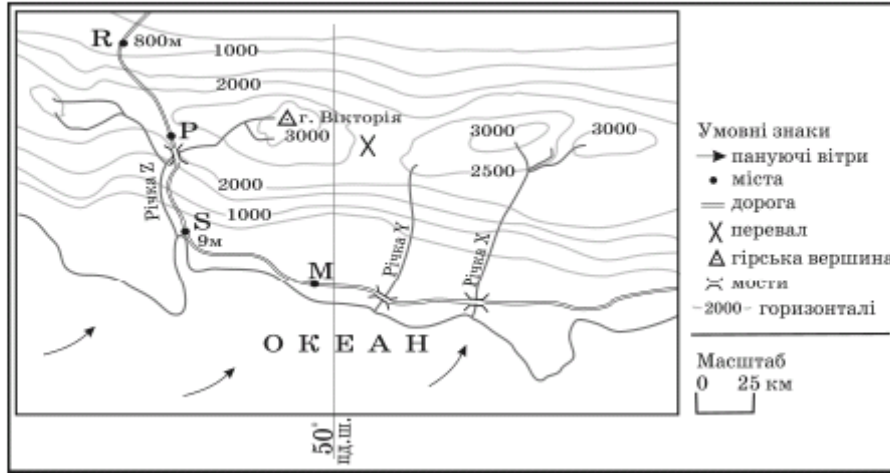
Скуратович О.Я., Круглик Л.І., Коваленко Р.Р. Загальна географія: підруч. для 6 кл – К.: Зодіак-ЕКО, 2005. – 319с. § 6,7

5. Визначте схему, на якій відображено походження озерних улоговин Танганьїки та Байкалу?



Скуратович О.Я., Круглик Л.І., Коваленко Р.Р. Загальна географія: підруч. для 6 кл – К.: Зодіак-ЕКО, 2005. – 319с. §18
 Пестушко В.Ю., Сасихов В.О., Уварова Г.Є. Географія материків і океанів: підруч. для 7 кл. серед.шк. – К.: Абрис, 2003. – 376с. §25,56

6. Розгляньте карту уявної земної поверхні. Доберіть правильне твердження про природу та господарство цієї місцевості.



- А Середньорічна кількість опадів в місті Р більша, ніж у місті R.
- Б Витрата води в річках X, Y, Z значно більша у квітні, ніж у жовтні.
- В Найімовірніше, що порт буде збудовано в районі міста М.
- Г Найкоротша дорога між містами S та М проходить через перевал.

Скуратович О.Я., Круглик Л.І., Коваленко Р.Р. Загальна географія: підруч. для 6 кл – К.: Зодіак-ЕКО, 2005. – 319с. §6

7. Укажіть географічні об'єкти, у межах яких рослинний і тваринний світ найбагатший і найрізноманітніший.

- А Гобі, Наміб
- Б Альпи, Аппалачі
- В Амазонія, Калімантан
- Г Масив Вінсон, Баффінова Земля

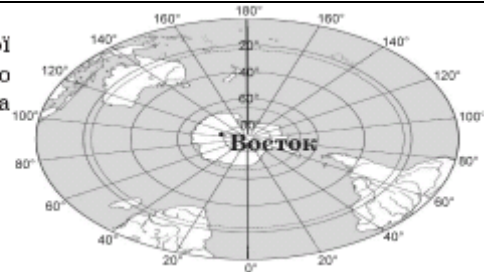
Скуратович О.Я., Круглик Л.І., Коваленко Р.Р. Загальна географія: підруч. для 6 кл – К.: Зодіак-ЕКО, 2005. – 319с. § Пестушко В.Ю., Сасихов В.О., Уварова Г.Є. Географія материків і океанів: підруч. для 7 кл. серед.шк. – К.: Абрис, 2003. – 376с. §41, 43,51,59,65
Атлас для 7 класу «Географія материків та океанів», ППТ

8. Визначте правильне твердження про природу океанів.

- А У Північному Льодовитому океані є багато коралових островів.
- Б У Атлантичному океані знаходиться найбільша западина Світового океану.
- В Акваторія Тихого океану займає понад половину площі поверхні планети.
- Г Водні маси верхнього шару Індійського океану холодніші на півдні, ніж на півночі.

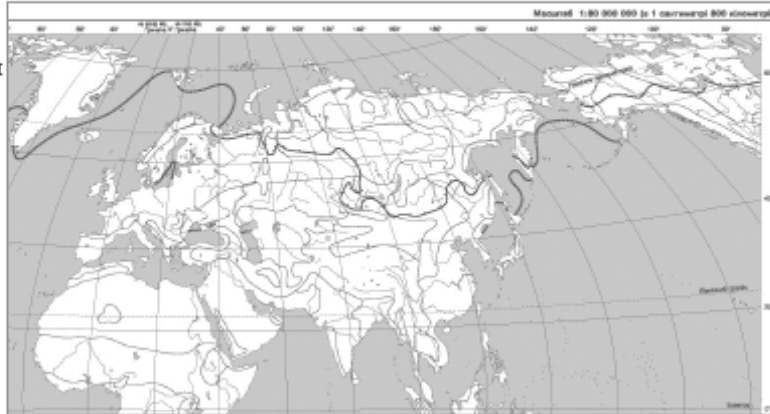
Корнеєв В.П., Герасимчук В.М., Пічугін Б.В. Географія материків і океанів: підруч. для 7 кл. загально освіт. навч. закладів. – К.: Освіта, Шкільна освіта, 2003. – 256с, с. 53 – 72

<p>9. Яке твердження щодо географічного положення Австралії правильне?</p> <p>А Екватор перетинає південну частину материка. Б Майже посередині її перетинає Південний тропік. В Найближчими до материка є Африка та Північна Америка. Г Зі сходу омивається водами Атлантичного океану.</p>	<p>Пестушко В.Ю., Сасихов В.О., Уварова Г.Є. Географія материків і океанів: підруч. для 7 кл. серед.шк. – К.: Абрис, 2003. – 376с. §32 Атлас для 7 класу «Географія материків та океанів». ДНВП «Картографія», Атлас для 7 класу «Географія материків та океанів», ІПТ</p>
<p>10. Укажіть географічний об'єкт, у межах якого знаходиться найвища вершина Африки.</p> <p>А гори Атлас Б Драконові гори В Ефіопське нагір'я Г Східноафриканське плоскогір'я</p>	<p>Пестушко В.Ю., Сасихов В.О., Уварова Г.Є. Географія материків і океанів: підруч. для 7 кл. серед.шк. – К.: Абрис, 2003. – 376с. §25 Атлас для 7 класу «Географія материків та океанів». ДНВП «Картографія», Атлас для 7 класу «Географія материків та океанів», ІПТ</p>
<p>11. Визначте координати антарктичної станції «Восток», де зафіксовано найнижчу температуру повітря на Землі.</p> <p>А 79° пд. ш. 105° сх. д. Б 79° пн. ш. 105° сх. д. В 79° пн. ш. 105° зх. д. Г 79° пд. ш. 105° зх. д.</p>	<p>Пестушко В.Ю., Сасихов В.О., Уварова Г.Є. Географія материків і океанів: підруч. для 7 кл. серед.шк. – К.: Абрис, 2003. – 376с. §43, 44</p>
<p>12. Визначте природну країну Південної Америки, що має такі ознаки: «субтропічний клімат з рівномірним зволоженням; на незораних червоноуваточорних ґрунтах домінують злаки; водяться гуанако, мустанги, олені, нанду; переважає вирощування кукурудзи, пшениці та скотарство».</p> <p>А Патагонія Б Пампа В Гвіанське плоскогір'я Г Бразильське плоскогір'я</p>	<p>Пестушко В.Ю., Сасихов В.О., Уварова Г.Є. Географія материків і океанів: підруч. для 7 кл. серед.шк. – К.: Абрис, 2003. – 376с. §41</p>
<p>13. Укажіть правильне твердження про пам'ятку природи Північної Америки – печеру Флінт-Мамонтова.</p> <p>А Найдовша печера на материку. Б Знаходиться за Північним полярним колом. В Має еолове походження. Г Єдина гіпсова печера у світі.</p>	<p>Пестушко В.Ю., Сасихов В.О., Уварова Г.Є. Географія материків і океанів: підруч. для 7 кл. серед.шк. – К.: Абрис, 2003. – 376с. §51</p>



14. За допомогою карти, де зображено межі поширення багаторічної мерзлоти, визначте країну Євразії, населення якої має можливість в околицях столиці використовувати влітку природні холодильники для збереження продуктів харчування.

- А Норвегія
- Б Росія
- В Фінляндія
- Г Монголія



Пестушко В.Ю., Сасихов В.О., Уварова Г.Є. Географія материків і океанів: підруч. для 7 кл. серед.шк. – К.: Абрис, 2003. – 376с. §64

Атлас для 7 класу «Географія материків та океанів». ДНВП «Картографія», Атлас для 7 класу «Географія материків та океанів», ІПТ

15. За даними таблиці визначте столицю держави, на залізничному вокзалі якої годинник вказує такий же час, що й на київському.

	Столиця	Широта	Довгота
	Київ	51° пн. ш.	31° сх. д.
А	Братислава	48° пн. ш.	17° сх. д.
Б	Будапешт	47° пн. ш.	19° сх. д.
В	Бухарест	44° пн. ш.	26° сх. д.
Г	Москва	56° пн. ш.	37° сх. д.

Шищенко П.Г., Муніч Н.В. Фізична географія України: Підруч. для 8 кл. загальноосвіт. навч. закл. – К.: Зодіак – ЕКО, 2005. – 256 с. §4

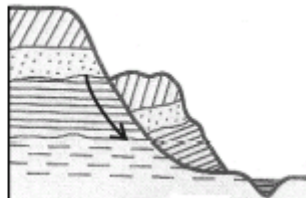
16. Складовою якої тектонічної структури є пороги в руслі річки, що мала назви: Борисфен, Данапріс, Славутич?

- А Український щит
- Б Дніпровсько-Донецька западина
- В Волино-Подільська плита
- Г Донецька складчаста споруда

Чернов Б. В. Фізична географія України, підр для 8 кл, - К.: Освіта, 2002. – 254 с §23

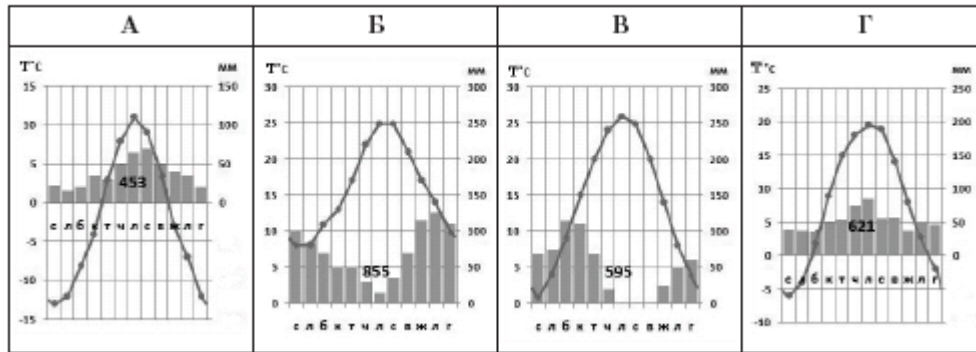
17. Результат якого процесу зображено на схемі?

- А сель
- Б карст
- В зсув
- Г осипище



Масляк П.О., Шищенко П.Г. Географія України: Підруч. для 8 – 9 кл. серед. шк. К.: Зодіак- ЕКО, 2004. – 432 с.

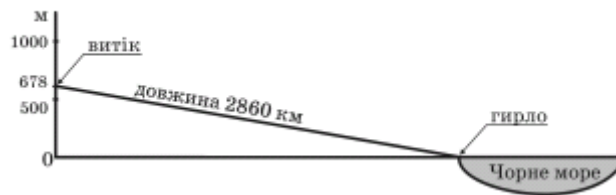
18. На якій кліматодіаграмі відображено кліматичні умови Києва?



Гілецький Й.Р. Географія України (Фізична географія з основами загального землезнавства): Підруч. для 8 класу. – Львів: ВНТЛ-Класика, 2003. – 150 с. §22

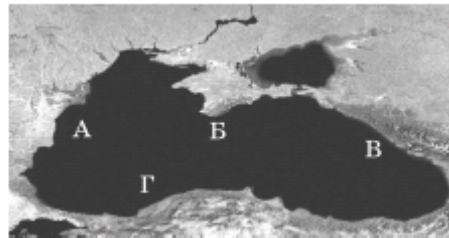
19. Визначте похил р. Дунай за даними, указаними на схемі.

- А 0,24 м/км
- Б 4,22 км/м
- В 0,24 км/м
- Г 4,22 м/км



Гілецький Й.Р. Географія України (Фізична географія з основами загального землезнавства): Підруч. для 8 класу. – Львів: ВНТЛ-Класика, 2003. – 150 с. §23,26

20. Якою буквою на космічному знімку позначено частину акваторії Чорного моря, де проходить Кавказька течія?



Пестушко В.Ю., Сасихов В.О., Уварова Г.Є. Географія материків і океанів: підруч. для 7 кл. серед.шк. – К.: Абрис, 2003. – 376с. §61

Атлас для 8класу «Фізична географія України». ДНВП «Картографія», Атлас для 8 класу «Географія України», ШТ

21. Визначте регіон України, для якого типовими є подані в таблиці ґрунти, рослини і тварини.

Ґрунти	Рослини	Тварини
бурі, сіро-бурі, дерново-буроземні	бук, ялиця, ялина, ялівець, сосна сланка	олень благородний, ведмідь бурий, глухар

- А Карпати
- Б Крим
- В Полісся
- Г Поділля

Масляк П.О., Шищенко П.Г. Географія України: Підруч. для 8 – 9 кл. серед. шк.

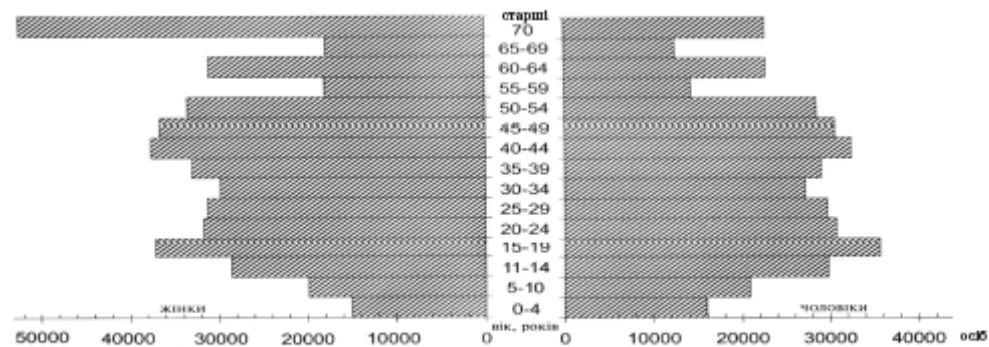
К.: Зодіак- ЕКО, 2004. – 432 с./ с.83-91

22. Яка причина збільшення солоності води в Азовському морі?

- А Надходження забруднених вод річок Кальміус і Молочної.
- Б Збільшення густоти популяції медуз і риби в морі.
- В Збільшення витрат кисню у воді під час розкладу органіки.
- Г Інтенсивне зрошення в долинах Дону та Кубані.

Шищенко П.Г., Муніч Н.В. Фізична географія України: Підруч. для 8 кл. загальноосвіт. навч. закл. – К.: Зодіак – ЕКО, 2005. – 256 с. §55

23. Проаналізувавши статеву-вікову піраміду, визначте правильне твердження про міське населення однієї з областей України.



- А Жіноче населення за кількістю поступається чоловічому в усіх вікових групах.
- Б Найбільша різниця кількості жінок і чоловіків у віці понад 70 років.
- В Половина населення області – дитячого та підліткового віку.
- Г Серед дітей віком до чотирьох років значно більше дівчаток, ніж хлопчиків.

Заставний Ф.Д. Економічна і соціальна географія України: Підруч. для 9 кл. – К.: Форум, 2003. – 239с. §6

24. Укажіть елементи територіальної структури господарства.

- А целюлозно-паперова фабрика, коксохімічний завод, навчально-виховний заклад
- Б приватне підприємство, фермерське господарство, кооператив
- В промисловий центр, сільськогосподарська зона, економічний район
- Г виробнича інфраструктура, соціальна сфера, зовнішня торгівля

. Дітчук І. Л., Заставецька О. В., Ткач Д.В. Географія України: навч. посібник. – Тернопіль: Навчальна книга – Богдан, 2003, 2006. – 168 с.

Тема 3 «Промисловість» с.53

25. Визначте рядок із правильним поєднанням даних про підприємство машинобудівної галузі України в ланцюзі: місто – назва підприємства – продукція – основний фактор розміщення.

	Місто	Назва підприємства	Продукція	Основний фактор розміщення
А	Ужгород	Концерн «Лан»	зернозбиральні комбайни	споживач
Б	Черкаси	Концерн «Черкаський автобус»	маршрутні автобуси	траса газопроводу
В	Харків	КНТК «Антонов»	літаки	наукова база
Г	Краматорськ	«Новокраматорський машзавод»	ковальсько-пресове устаткування	металургійна база

Сиротенко А.Й. Економічна і соціальна географія України: Підруч. для 9 кл. загальноосв. навч. закл. – К.: Освіта, 2001. – 222 с. §45, 47,50, 59, 62.

26. Який вид продукції основної хімії виробляється в містах Черкаси, Рівне, Одеса, Северодонецьк, Дніпродзержинськ?

- А калійні добрива
- Б азотні добрива
- В фосфатні добрива
- Г сода

Масляк П.О. Економічна і соціальна географія України: підруч. для 9 кл. загальноосвіт. навч. закл. – Педагогічна преса, 2005. – 288с. §32

27. Площі посівів якої сільськогосподарської культури в Україні відображено на картограмі?

- А соя
- Б соняшник
- В цукровий буряк
- Г льон-довгунець



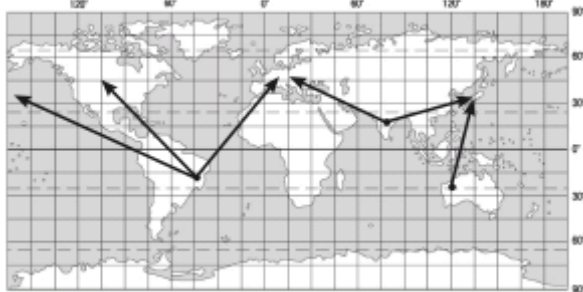
Заставний Ф.Д. Економічна і соціальна географія України: Підруч. для 9 кл. – К.: Форум, 2003. – 239с., §25

28. Як називаються антропогенні та природні об'єкти, а також явища природи, як використовуються для відновлення та розвитку фізичних і духовних сил людини?

- А технополіси
- Б мінеральні ресурси
- В рекреаційні ресурси
- Г виробнича інфраструктура

Сиротенко А.Й. Економічна і соціальна географія України: Підруч. для 9 кл. загальноосв. навч. закл. – К.: Освіта, 2001. – 222 с.

<p>29. Оберіть правильне твердження щодо транспорту України.</p> <p>А Найвищу собівартість перевезень має авіаційний транспорт.</p> <p>Б Найдовші каботажні перевезення здійснюються між Іллічівськом та Ялтою.</p> <p>В Головну роль у внутрішньоекономічних зв'язках відіграє річковий транспорт.</p> <p>Г Основний недолік трубопровідного транспорту – залежність від погоди.</p>	<p>Заставний Ф.Д. Економічна і соціальна географія України: Підруч. для 9 кл. – К.: Форум, 2003. – 239с. §28,29,30</p>
<p>30. Визначте економічний район, що спеціалізується на виробництві літаків, вантажних автомобілів, нафтопродуктів, поліграфічної продукції.</p> <p>А Подільський</p> <p>Б Карпатський</p> <p>В Столичний</p> <p>Г Північно-Східний</p>	<p>Масляк П.О. Економічна і соціальна географія України: підруч.для 9 кл. загально освіт. навч. зал. – Педагогічна преса , 2005. – 288с. §54,55,56</p>
<p>31. Укажіть міжнародну організацію, членом якої є Україна</p> <p>А ЄС</p> <p>Б ООН</p> <p>В НАТО</p> <p>Г НАФТА</p>	<p>Топузов О.М., Тименко Л.В. Економічна і соціальна географія світу: Підруч. для 10 кл. загальноосвіт. навч. закладів. – К.: Зодіак-ЕКО, § 4</p>
<p>32. Укажіть правильне твердження про населення країн «великої сімки»</p> <p>А Низький рівень та високі темпи урбанізації.</p> <p>Б Переважання частки зайнятих у сільському господарстві.</p> <p>В Низький і від'ємний показник природного приросту.</p> <p>Г Незначна частка зайнятих у сфері послуг.</p>	<p>Яценко Б. П. Економічна і соціальна географія зарубіжних країн: Підруч. для 10 кл.– К.:Прок-Бізнес, 2004. – с. 248 с. § 8,28</p>
<p>33. Визначте корисну копалину, міжнародні вантажо потоки якої відображено на картосхемі.</p> <p>А кам'яне вугілля</p> <p>Б мідна руда</p> <p>В залізна руда</p> <p>Г нафта</p>	<p>Яценко Б. П. Економічна і соціальна географія зарубіжних країн: Підруч. для 10 кл.– К.: Прок-Бізнес, 2004. – с. 248 с. §14</p>

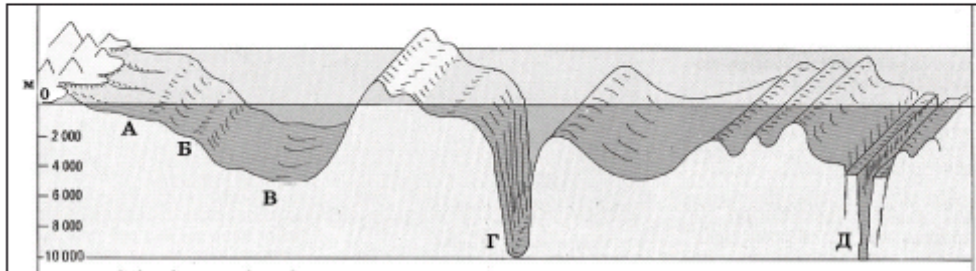


<p>34. Частку збору певної сільськогосподарської культури у структурі світового виробництва зернових відображено на діаграмі суцільним сірим кольором. Яка це культура?</p> <p>А кукурудза Б ячмінь В овес Г жито</p>		<p>Яценко Б. П. Економічна і соціальна географія зарубіжних країн: Підруч. для 10 кл.– К.: Прок-Бізнес, 2004. – с. 248 с. § 24</p>
<p>35. У якому регіоні США знаходяться 2/3 запасів деревини країни; найбільша ГЕС Гранд-Кулі на р. Колумбія; у головному місті Сіетлі – аерокосмічна компанія «Боїнг» та електронна компанія «Майкрософт»?</p> <p>А Приозер'я Б Тихоокеанський Північний Захід В Атлантичне узбережжя Г Південь</p>	<p>Яценко Б. П. Економічна і соціальна географія зарубіжних країн: Підруч. для 10 кл.– К.: Прок-Бізнес, 2004. – с. 248 с. § 56</p>	
<p>36. Яке місто Росії є центром морського суднобудування?</p> <p>А Санкт-Петербург Б Нижній Новгород В Красноярськ Г Єкатеринбург</p>	<p>Яценко Б. П. Економічна і соціальна географія зарубіжних країн: Підруч. для 10 кл.– К.: Прок-Бізнес, 2004. – с. 248 с. § 42</p>	
<p>37. Що призвело до того, що за економічним потенціалом і ВВП Китай знаходиться в першій десятці країн світу?</p> <p>А Різке скорочення військового виробництва та переорієнтація його на виробництво сільськогосподарських машин і гірничого устаткування. Б Проведення системних економічних реформ і політики «відкритих дверей». В Здійснення політики «великого стрибка» та «культурної революції». Г Повна заміна вугілля в паливно-енергетичному балансі на газ та уран.</p>	<p>Яценко Б. П. Економічна і соціальна географія зарубіжних країн: Підруч. для 10 кл.– К.: Прок-Бізнес, 2004. – с. 248 с. § 49</p>	
<p>38. Яка держава фінансово-технологічною підтримкою сприяла розвитку машинобудування країн нової індустріалізації – «азіатських тигрів»?</p> <p>А В'єтнам Б Північна Корея В Австралія Г Японія</p>	<p>Топузов О.М., Тименко Л.В. Економічна і соціальна географія світу: Підруч. для 10 кл. загальноосвіт. навч. закладів. – К.: Зодіак-ЕКО, § 28</p>	

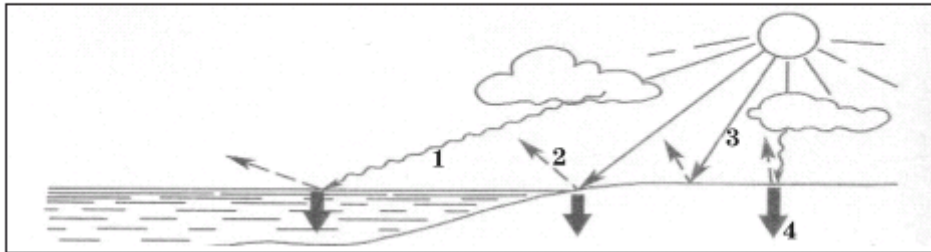
<p>39. Укажіть правильне твердження щодо лідерства країни в Латинській Америці</p> <p>А Чилі виробляє найбільше автомобілів. Б Аргентина імпортує найбільше зерна. В Бразилія має найбільші запаси мідної руди. Г Еквадор експортує найбільше бананів.</p>	<p>Яценко Б. П. Економічна і соціальна географія зарубіжних країн: Підруч. для 10 кл.– К.: Прок-Бізнес, 2004. – с. 248 с. § 58,59,60</p>
<p>40. Який європейський курорт має вибрати сім'я, що планує відпочити на березі океану?</p> <p>А Маямі (США) Б Баден-Баден (ФРН) В Коста-Верде (Іспанія) Г Давос (Швейцарія)</p>	<p>Яценко Б. П. Економічна і соціальна географія зарубіжних країн: Підруч. для 10 кл.– К.: Прок-Бізнес, 2004. – с. 248 с. Атлас для 10 класу «Економічна і соціальна географія світу». ДНВП «Картографія», Атлас для 10 класу «Економічна і соціальна географія світу», ПТ</p>
<p>41. Установіть відповідність між назвами галузей географічних наук і предметом їхнього вивчення.</p> <p>1 соціальна географія А наука про просторові форми та процеси організації життя людей і виробництва – умов їхньої праці, відпочинку, побуту, розвитку особистості. 2 фізична географія Б наука, що вивчає природні води, явища і процеси, що в них відбуваються 3 геоморфологія В наука про рельєф земної поверхні, що утворився в результаті постійної взаємодії внутрішніх і зовнішніх процесів 4 гідрологія Г наука про географічну оболонку Землі, її склад, структуру, особливості формування, розвитку, просторової диференціації Д наука, що вивчає історію розвитку географічної оболонки й окремих ландшафтів за весь період їхнього існування, що передував сучасному</p>	<p>Дітчук І. Л., Заставецька О. В., Ткач Д.В. Географія України: навч. посібник. – Тернопіль: Навчальна книга – Богдан, 2003, 2006. – 168 с. Вступ, с.3,4 Шищенко П.Г., Муніч Н.В. Фізична географія України: Підруч. для 8 кл. загальноосвіт. навч. закл. – К.: Зодіак – ЕКО, 2005. – 256 с. §1,21,27</p>

42. Установіть відповідність між назвами форм дна океану та їхніми зображеннями, позначеними на схемі буквами.

- 1 рифт
- 2 шельф
- 3 ложе океану
- 4 глибоководний жолоб



43. Установіть відповідність між різновидами сонячної радіації, що на схемі позначені цифрами, та їхніми назвами, що вказані буквами.



- А сумарна
- Б розсіяна
- В поглинута
- Г пряма
- Д відбита

44. Установіть відповідність між річками та формами поверхні, де знаходяться витoki цих річок (див. карту).

- | | |
|---------------------|---------------------------|
| 1 Дніпро | А Валдайська височина |
| 2 Прип'ять | Б Поліська низовина |
| 3 Сіверський Донець | В Донецький кряж |
| 4 Дністер | Г Карпати |
| | Д Середньоруська височина |

Скуратович О.Я., Круглик Л.І., Коваленко Р.Р. Загальна географія: підруч. для 6 кл – К.: Зодіак-ЕКО, 2005. – 319с. §15

Пестушко В.Ю., Сасихов В.О., Уварова Г.Є. Географія материків і океанів: підруч. для 7 кл. серед.шк. – К.: Абрис, 2003. – 376с. §5

Шищенко П.Г., Муніч Н.В. Фізична географія України: Підруч. для 8 кл. загальноосвіт. навч. закл. – К.: Зодіак – ЕКО, 2005. – 256 с. §22

Чернов Б. В. Фізична географія України, підр для 8 кл, - К.: Освіта, 2002. – 254 с, §23,24



45. Установіть відповідність між ландшафтними краями (провінціями) лісостепо-
вої зони України та їхніми характеристиками.

- | | | |
|-----------------------------|---|---|
| | А | знаходиться в межах Подільської та Придніпровської височин, у минулому значні площі були зайняті широколистяними лісами |
| | Б | через неглибоке залягання засолених ґрунтових вод поширені солонцюваті ґрунти з солончаковою рослинністю, трапляються соляні куполи |
| 1 Середньоруський | В | переважають сухостепові ландшафти прибережно-морської місцевості |
| 2 Дністровсько-Дніпровський | Г | найбільш підвищена та найбільш зволожена частина лісостепової зони |
| 3 Західноукраїнський | Д | кліматичні умови континентальніші, ніж в інших лісостепових краях |
| 4 Лівобережно-Дніпровський | | |

46. Установіть відповідність між назвою виду міграції та переміщенням населення в Україні.


Масляк П.О., Шищенко П.Г. Географія України: Підруч. для 8 – 9 кл. серед. шк.

К.: Зодіак- ЕКО, 2004. – 432 с./ с.121-127

Сиротенко А.Й. Економічна і соціальна географія України: Підруч. для 9 кл. загальноосв. навч. закл. – К.: Освіта, 2001. – 222 с. §7

Заставний Ф.Д. Економічна і соціальна географія України: Підруч. для 9 кл. – К.: Форум, 2003. – 239с. §8,12

<p>1 внутрішня міграція 2 еміграція 3 імміграція 4 реміграція</p> <p>А виїзд з Івано-Франківської області на постійне проживання в Іспанію Б переїзд на проживання у Вінницю з сільської місцевості Хмельницької області В переїзд представника української діаспори в Римі на постійне проживання в Мілан Г повернення в Україну киян, які виїжджали до Польщі на постійне проживання Д в'їзд жителя Молдови в Україну на постійне проживання</p>	
<p>47. Установіть відповідність між формами організації виробництва на підприємстві та твердженнями про ці форми.</p> <p>1 концентрація 2 кооперування 3 спеціалізація 4 комбінування</p> <p>А поєднання кількох взаємоз'язаних за технологічним процесом виробництв на одному підприємстві Б виробництво на підприємстві однорідної продукції В налагодження підприємством зв'язків з іншими підприємствами для випуску готової продукції Г взаємоз'язане поєднання підприємств різних галузей на спільній території Д зосередження виробництва продукції на великому підприємстві</p>	<p>Дітчук І. Л., Заставецька О. В., Ткач Д.В. Географія України: навч. посібник. – Тернопіль: Навчальна книга – Богдан, 2003, 2006. – 168 с. Тема 3 «Промисловість» с.53</p>
<p>48. Установіть відповідність між назвами атомних електростанцій та економічними районами, у яких вони знаходяться.</p> <p>1 Запорізька 2 Рівненська 3 Хмельницька 4 Південноукраїнська</p> <p>А Причорноморський Б Подільський В Північно-Західний Г Північно-Східний Д Придніпровський</p>	<p>Заставний Ф.Д. Економічна і соціальна географія України: Підруч. для 9 кл. – К.: Форум, 2003. – 239с., §15</p>
<p>49. Установіть відповідність між країнами та структурою релігійних вірувань їх населення.</p>	<p>Топузов О.М., Тименко Л.В. Економічна і соціальна географія світу: Підруч. для 10 кл. загальноосвіт. навч. закладів. – К.: Зодіак-ЕКО, § 6</p>


<p>А індуїсти – 81%, мусульмани – 12%, християни – 2%, сікхи – 2%, інші, включаючи буддистів, джайнів, парсів, – 3%</p> <p>Б православні – 40%, мусульмани – 10%, протестанти – 1%, іудаїсти – 0,4%, католики – 0,3%, атеїсти та інші – 48,3%</p> <p>В мусульмани-суніти – 94%, християни-копти та інші – 6%</p> <p>Г протестанти – 56%, католики – 28%, іудаїсти – 2%, інші – 4%</p> <p>Д атеїсти – 64%, національна релігія (поєднання конфуціанства, даосизму та буддизму) – 20%, буддисти – 9%, мусульмани – 1%, інші – 6%</p> <p>1 Росія 2 Китай 3 Єгипет 4 США</p>	<p>Яценко Б. П. Економічна і соціальна географія зарубіжних країн: Підруч. для 10 кл.– К.: Прок-Бізнес, 2004. – с. 248 с. § 10</p>
<p>50. Установіть відповідність між інформацією, що характеризує ту чи іншу державу, та державою, позначеною на карті буквою.</p> <p>1 за збором винограду утримує перше місце у світі, один із кварталів столиці є територією теократичної монархії</p> <p>2 за промисловим потенціалом поступається тільки США та Японії, у результаті об'єднання країни в кінці ХХ ст. збільшилася її територія, поновлено місцезнаходження столиці</p> <p>3 має значні запаси нафти на шельфі, конституційна монархія, лідер серед країн Співдружності Націй</p> <p>4 за населенням – друга, за площею – перша країна в Західній Європі, у одному з міст на сході знаходиться Європейський парламент</p> 	<p>Яценко Б. П. Економічна і соціальна географія зарубіжних країн: Підруч. для 10 кл.– К.: Прок-Бізнес, 2004. – с. 248 с. §31, 32,33,34</p>
<p>51. Розташуйте імена мандрівників за часом їхніх відкриттів, починаючи з найдавнішого.</p> <p>А Христофор Колумб Б Вітус Берінг В Марко Поло Г Жак Ів Кусто</p>	<p>Скуратович О.Я., Круглик Л.І., Коваленко Р.Р. Загальна географія: підруч. для 6 кл – К.: Зодіак-ЕКО, 2005. – 319с. §2 Пестушко В.Ю., Сасихов В.О., Уварова Г.Є. Географія материків і океанів: підруч. для 7 кл. серед.шк. – К.: Абрис, 2003. – 376с. §34,40</p>

52. Установіть послідовність розташування заповідників і національних парків світу (з півночі на південь).

- А Біловезька пуща
- Б Ігуасу
- В Серенгеті
- Г Чорноморський

Атлас для 7 класу «Географія материків та океанів». ДНВП «Картографія», Атлас для 7 класу «Географія материків та океанів», ІПТ
Чернов Б. В. Фізична географія України, підр для 8 кл, - К.: Освіта, 2002. – 254 с

53. Укажіть послідовно типових представників тваринного світу географічних поясів Євразії, починаючи від найближчого до екватора.

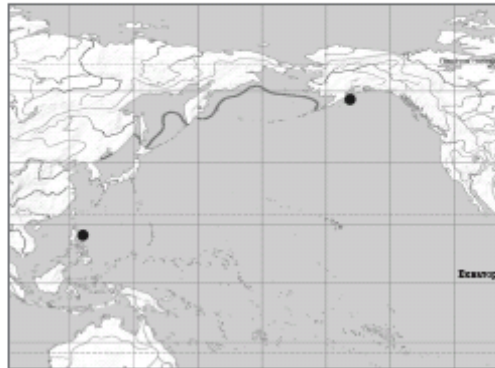


Пестушко В.Ю., Сасихов В.О., Уварова Г.Є. Географія материків і океанів: підруч. для 7 кл. серед.шк. – К.: Абрис, 2003. – 376с. §65

Атлас для 7 класу «Географія материків та океанів». ДНВП «Картографія», Атлас для 7 класу «Географія материків та океанів», ІПТ

54. Кокосовий горіх упав в море з берега о. Лусон (Філіппінський архіпелаг), а хвиля з часом прибила його на о. Кадьяк (поблизу Північної Америки). Укажіть послідовно течії, які несли горіх.

- А Північна Пасатна
- Б Аляскінська
- В Куросіо
- Г Північно-Тихоокеанська



Пестушко В.Ю., Сасихов В.О., Уварова Г.Є. Географія материків і океанів: підруч. для 7 кл. серед.шк. – К.: Абрис, 2003. – 376с. §16

Атлас для 7 класу «Географія материків та океанів». ДНВП «Картографія», Атлас для 7 класу «Географія материків та океанів», ІПТ

55. Розташуйте послідовно назви родовищ корисних копалин України, зображених на карті умовними знаками в порядку віддалення від Донецького вугільного басейну.

- А Голіцинське
- Б Сиваське
- В Білозерське
- Г Великотокмацьке



Атлас для 8 класу «Фізична географія України», ДНВП «Картографія», Атлас для 8 класу «Географія України», ІПТ Чернов Б. В. Фізична географія України, підр для 8 кл, - К.: Освіта, 2002. – 254 с, §16,17

56. У якій послідовності відвідає турист обласні центри, якщо він прямує зі Львова в Полтаву за вказаним на картосхемі маршрутом?

- А Вінниця
- Б Черкаси
- В Тернопіль
- Г Хмельницький



Атлас для 8 класу «Фізична географія України», ДНВП «Картографія», Атлас для 8 класу «Географія України», ІПТ

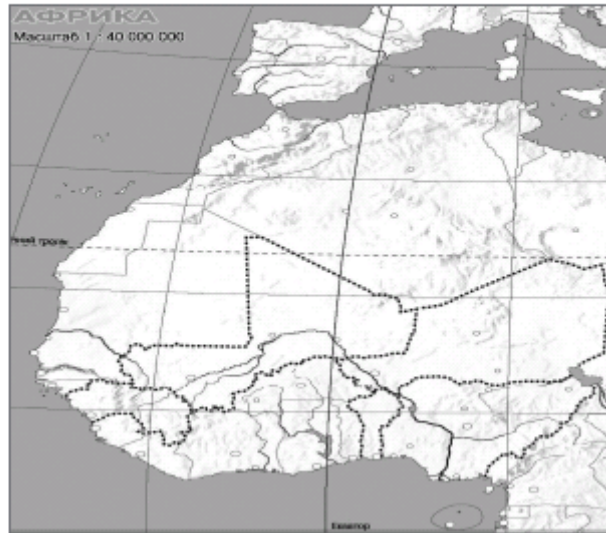
57. Установіть послідовність стадій металургійного виробничого процесу, починаючи від початкової.

- А виготовлення прокату
- Б збагачення руди
- В виплавлення сталі
- Г виплавлення чавуну

Масляк П.О. Економічна і соціальна географія України: підруч.для 9 кл. загально освіт. навч. зал. – Педагогічна преса , 2005. – 288с. §26

58. Припустимо, що біля витoku річка Нігер була забруднена шкідливими речовинами. Укажіть послідовно країни лівобережжя, які зазнали б небезпеки.

- А Нігерія
- Б Нігер
- В Малі
- Г Гвінея



Атлас для 10 класу «Економічна і соціальна географія світу». ДНВП «Картографія», Атлас для 10 класу «Економічна і соціальна географія світу», ШТ

59. Визначте водозабезпеченість населення зазначених у таблиці країн. Розташуйте їх послідовно, починаючи від найменшого обчисленого показника.

	Країни	Ресурси прісної води, км ³	Кількість населення, млн осіб
А	Канада	2900	33
Б	Бангладеш	2360	145
В	Венесуела	1320	28
Г	Бразилія	6950	190

Яценко Б. П. Економічна і соціальна географія зарубіжних країн: Підруч. для 10 кл.–

К.: Прок-Бізнес, 2004. – с. 248 с. § 13

60. Установіть у хронологічній послідовності події (починаючи від найдавнішої), наслідком яких є антропогенні зміни в природі.

А широкомасштабна меліорація земель Полісся, що було передбачено п'ятирічними планами союзної держави, складовою якої була Україна

Б створення Чорнобильської зони відчуження після аварії на ЧАЕС

В прийняття Верховною Радою незалежної України Закону про ратифікацію «Європейської ландшафтної конвенції»

Г заснування зоопарку та дендропарку Ф. Фальц-Фейном в Асканії Новій, що стало початком створення заповідника для збереження природи європейського степу

Чернов Б. В. Фізична географія України, підр для 8 кл, - К.: Освіта, 2002. – 254 с., §50

Масляк П.О., Шищенко П.Г. Географія України: Підруч. для 8 – 9 кл. серед. шк.

К.: Зодіак- ЕКО, 2004. – 432 с./ с.378